


# Evaluation d'histoire : Se repérer dans le temps

Nom et prénom : .....	Classe : CM2	Date : ...../...../.....
Appréciation :		
Compétences évaluées :		
Connaître les unités de temps utilisées en histoire	A	AR ECA NA
Connaître les grandes périodes historiques, leurs événements transitoires et quelques personnages.	A	AR ECA NA
Méthodologie: lecture et écriture des chiffres romains, comprendre la notion de siècle, utiliser une frise chronologique pour se repérer dans le temps	A	AR ECA NA

## Les unités de temps utilisés :

a- Combien d'années comptent un siècle ?

.....

b- Comment appelle-t-on une période de 1 000 ans ?

.....

c- Que signifient les initiales J-C ?

.....

d- Que met-on devant une date lorsque l'événement s'est passé avant JC ?

.....

e- En quelle année a commencé le 1<sup>er</sup> siècle après JC ?

.....

f- En quelle année s'est terminé le 1<sup>er</sup> siècle après JC ?

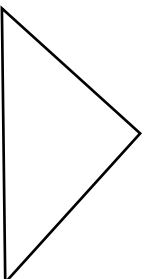
.....

## Les grandes périodes historiques :

a- Indique le nom de chaque période dans la frise suivante.

b- Indique la date et l'évènement qui marque le passage d'une période à l'autre.

.....	.....	.....	.....	.....
1	2	3	4	



1= .....  
 2= .....  
 3= .....  
 4= .....

c- Relie le personnage et l'évènement historique à la période qui leur correspond.

Napoléon	• Moyen-Age	• Maîtrise du feu
Homme de Tautavel	• Antiquité	• Invention de l'imprimerie
Charlemagne	• Préhistoire	• Conquête de la Gaule
Louis XIV	• Epoque contemporaine	• La 1 <sup>ère</sup> Guerre Mondiale
Jules César	• Temps modernes	• Guerre de 100 ans

### Méthodologie

a- Pour chaque date, écris en chiffres romains le siècle à laquelle elle appartient.

1 789 appartient au .....siècle.

1 944 appartient au .....siècle.

1 632 appartient au .....siècle.

476 appartient au .....siècle.

301 appartient au .....siècle.

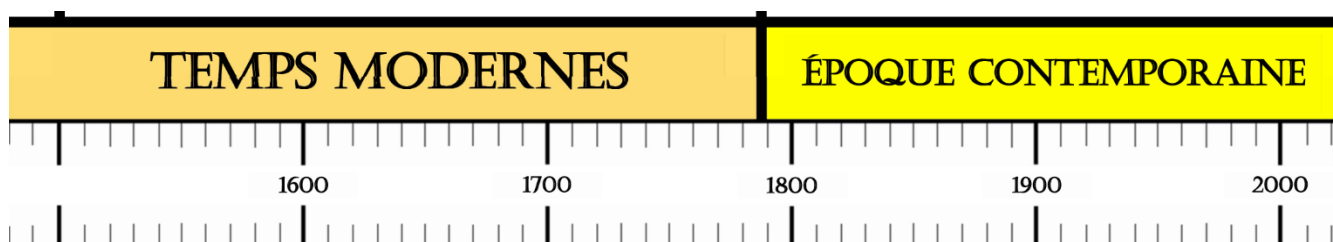
2 019 appartient au .....siècle.

b- Complète les phrases suivantes

Le XIII<sup>ème</sup> siècle a commencé le 1<sup>er</sup> janvier de l'an .....

Le XX<sup>ème</sup> siècle a commencé le 1<sup>er</sup> janvier de l'an .....

c- Sur la frise chronologique suivante, colorie de manière précise le XVII<sup>ème</sup> siècle



d- Sur la frise chronologique suivante, colorie de manière précise le III<sup>ème</sup> siècle avant JC.

