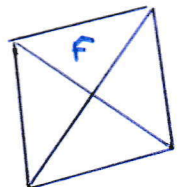
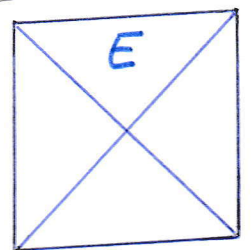
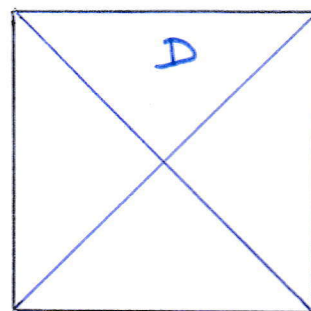
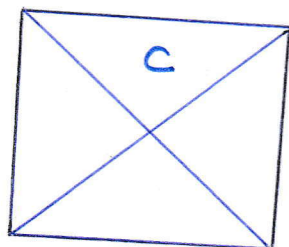

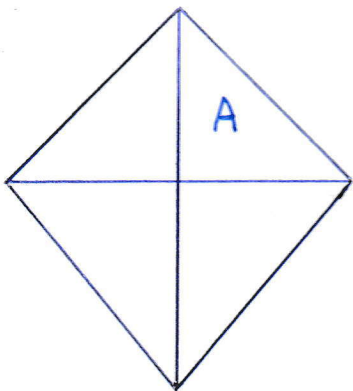


## Les quadrilatères - S4

- 1) Voici des quadrilatères. A vue d'œil, peux-tu donner le nom de ces figures ? .....

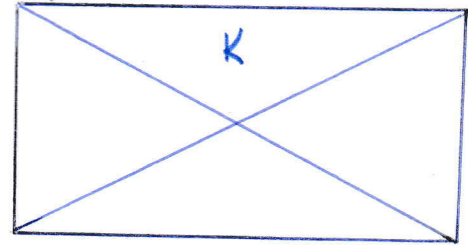
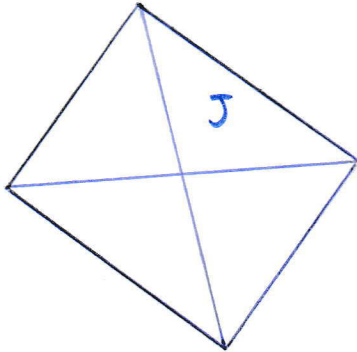
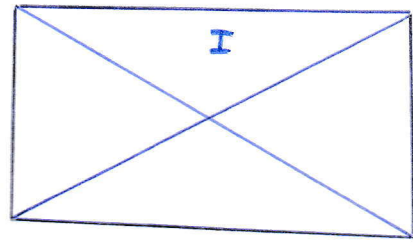

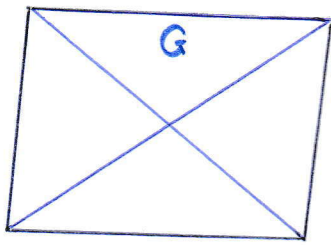
**Maintenant, tu vas utiliser tes instruments de géométrie (règle, équerre, compas) pour vérifier si tu as raison. Aide-toi de ta fiche sur les propriétés des quadrilatères, glissée dans une pochette plastique, tu pourras cocher avec un feutre velleda.**



Les figures ..... sont des carrés.

- 2) Voici des quadrilatères. A vue d'œil, peux-tu donner le nom de ces figures ? .....

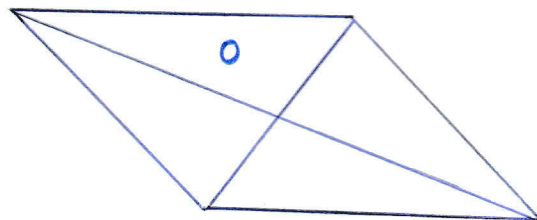
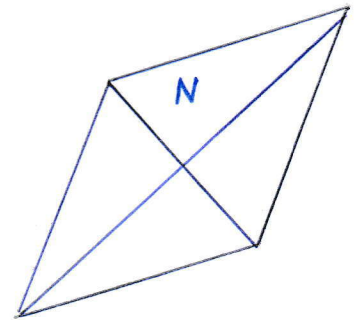
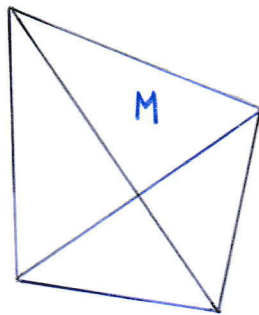
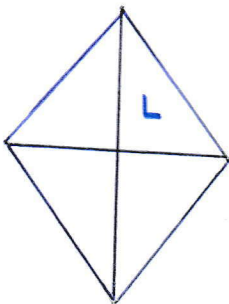
**Maintenant, tu vas utiliser tes instruments de géométrie (règle, équerre, compas) pour vérifier si tu as raison. Aide-toi de ta fiche sur les propriétés des quadrilatères, glissée dans une pochette plastique, tu pourras cocher avec un feutre velleda.**



Les figures ..... sont des rectangles.

- 3) Voici des quadrilatères. A vue d'œil, peux-tu donner le nom de ces figures ? .....

**Maintenant, tu vas utiliser tes instruments de géométrie (règle, équerre, compas) pour vérifier si tu as raison. Aide-toi de ta fiche sur les propriétés des quadrilatères, glissée dans une pochette plastique, tu pourras cocher avec un feutre velleda.**



Les figures ..... sont des losanges.