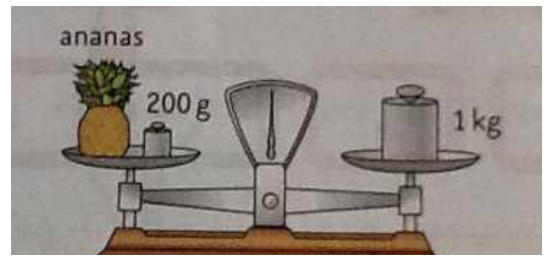



Exercice 1

Quelle est la masse de l'ananas ?




Exercice 2

Le camion vide pèse 2 600 kg. Il transporte 3 vachettes qui pèsent 800 kg, 750 kg et 695 kg. A-t-il le droit de passer sur le pont ?




Exercice 1

Quelle est la masse de l'ananas ?




Exercice 2

Le camion vide pèse 2 600 kg. Il transporte 3 vachettes qui pèsent 800 kg, 750 kg et 695 kg. A-t-il le droit de passer sur le pont ?



Exercice 1

Quelle est la masse de l'ananas ?



Exercice 2

Le camion vide pèse 2 600 kg. Il transporte 3 vachettes qui pèsent 800 kg, 750 kg et 695 kg. A-t-il le droit de passer sur le pont ?

