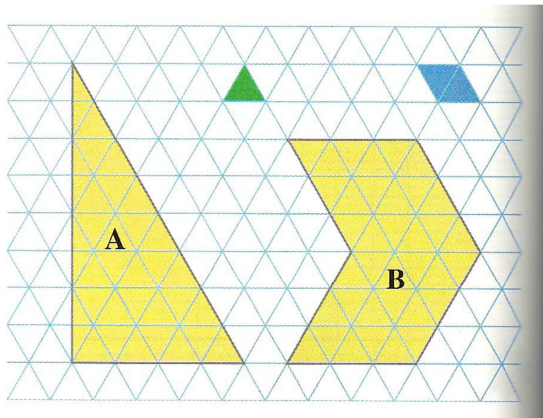


1



A / Le triangle vert est l'unité d'aire u .

☞ Quelle est l'aire des figures A et B ?

☞ Complète :

Aire < Aire

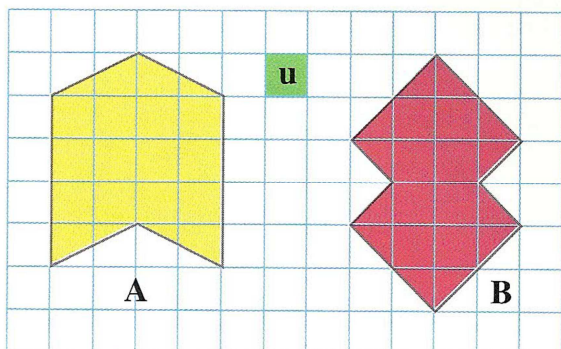
B / Le losange bleu est l'unité d'aire v .

☞ Quelle est l'aire des figures A et B ?

☞ Obtiens-tu les mêmes valeurs qu'avec

l'unité u ?

2



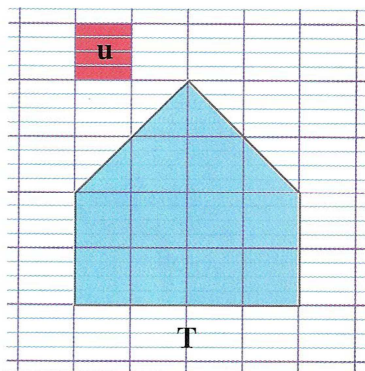
• Mesure les aires de ces figures.

Figure A = u

Figure B = u

• Quelle figure a l'air la plus grande ?

3



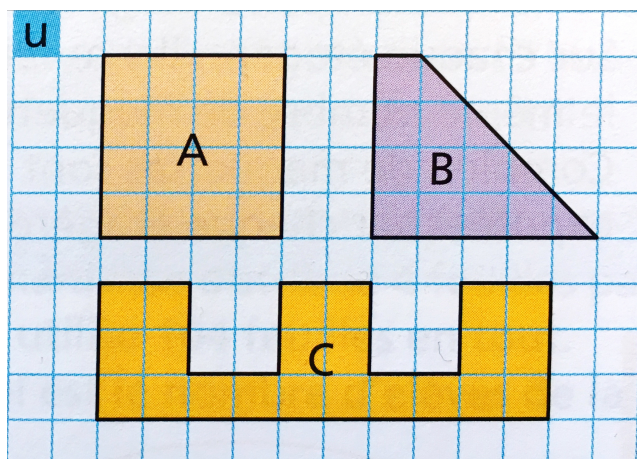
a/ Mesure l'aire de la figure T avec l'unité u .

b/ Sur une feuille de classeur, trace une figure P de forme différente mais de même aire que la figure T.

Bonus :

Trace un rectangle R d'aire double de celle de la figure T

Exercice 4 - Mesure l'aire de ces figures avec l'unité u , puis range-les dans l'ordre croissant.



Aire de A : _____ u

Aire de B : _____ u

Aire de C : _____ u

Ordre croissant des figures selon leur aire :

_____ < _____ < _____